

BACCALAURÉAT PROFESSIONNEL

MÉTIERS DE LA COIFFURE

SESSION 2025

ÉPREUVE E3 : ÉPREUVE PROFESSIONNELLE

Sous-épreuve E31 - TECHNIQUE DE COIFFURE Partie C - Analyse d'une situation professionnelle

SUJET

L'usage de la calculatrice n'est pas autorisé.

*Le sujet se compose de 15 pages, numérotées de la page 1/15 à la page 15/15.
Dès que le sujet vous est remis, assurez-vous qu'il est complet.*

**Les annexes 1 à 7 (pages 9/15 à 15/15 incluses)
sont à rendre agrafées dans la copie anonymée.**

BACCALAURÉAT PROFESSIONNEL MÉTIERS DE LA COIFFURE	E 3 – Épreuve professionnelle Sous-épreuve E31 Techniques de coiffure Partie C Analyse d'une situation professionnelle Coef : 3 Durée : 2 heures		
Repère : 25-BCP-MDC-U31C-PO1	Session : 2025	SUJET	Page 1/15

CONSIGNES CANDIDATS

Le candidat répond à l'ensemble des questions à partir de ses compétences et des documents ressources mis à disposition. Il rédige ses réponses sur une copie d'examen.

Certaines questions nécessitent de compléter une annexe, dans ce cas celle-ci sera dégrafée du sujet et rendue avec la copie examen.

LISTE DES DOCUMENTS RESSOURCES

Document	Titre du document	Page
Document 1	Les étapes de la coupe	2/6
Document 2	Palette de nuances Wella Tableau comparatif des reflets de différentes marques	3/6
Document 3	Technique de coiffage	4/6
Document 4	Produits de coiffage	5/6
Document 5	Les formes de kératine	6/6

LISTE DES ANNEXES À COMPLÉTER ET À RENDRE AVEC LA COPIE

Annexe	Titre de l'annexe	Page
Annexe 1	Schéma du cuir chevelu	9/15
Annexe 2	Techniques de coupe	10/15
Annexe 3	Fiche diagnostic	11/15
Annexe 4	Étapes techniques	12/15
Annexe 5	Principe d'action d'un mélange éclaircissant	13/15
Annexe 6	Structure et ultrastructure du cheveu	14/15
Annexe 7	Les différents montages	15/15

BACCALAURÉAT PROFESSIONNEL MÉTIER DE LA COIFFURE	Sous-épreuve E31 Techniques de coiffure Partie C Analyse d'une situation professionnelle Coef : 3 Durée : 2 heures		
	Repère : 25-BCP-MDC-U31C-PO1	Session 2025	SUJET Page 2/15

CONTEXTE PROFESSIONNEL

WELLA, est une entreprise suisse d'origine allemande. Elle a été fondée en 1880 par le coiffeur Franz Ströher.

Après avoir réalisé une partie de vos stages chez WELLA PARIS et titulaire du baccalauréat professionnel Métiers de la coiffure, l'entreprise vous propose de faire partie de ses collaborateurs au salon d'essai situé 21 rue Philibert Delorme PARIS 17^{ème}. Celui-ci comprend des coiffeurs, des formateurs spécialisés dans le domaine de la technique et de la coupe, mais également des formateurs représentants de la marque.


Pour cela, vous devez vous former aux produits de la marque. Une immersion au sein des salons partenaires est exigée.

La cheffe de secteur vous présente les personnes chargées de votre intégration et de votre formation :

- Laure est formatrice et experte dans le domaine de la coupe et des techniques et effets de coloration ;
- Sophie est formatrice expérimentée dans le domaine de la forme.

Situation 1 : concevoir et réaliser une coupe avec modification de la coloration personnalisée.	41,5 points
--	--------------------

Lors du training au salon d'essai, vous réalisez une coupe homme sur Steeve, sous les conseils de Laure, votre formatrice. Afin de mettre en valeur celle-ci, elle propose de réaliser une technique d'éclaircissement. Les cheveux de Steeve sont châtain clair en repousses (avec un léger éclaircissement naturel en pointes), sa base est naturelle. Son cuir chevelu est sain, ses cheveux sont normaux, d'une longueur de 25 cm, sa peau est claire, ses yeux sont marrons.

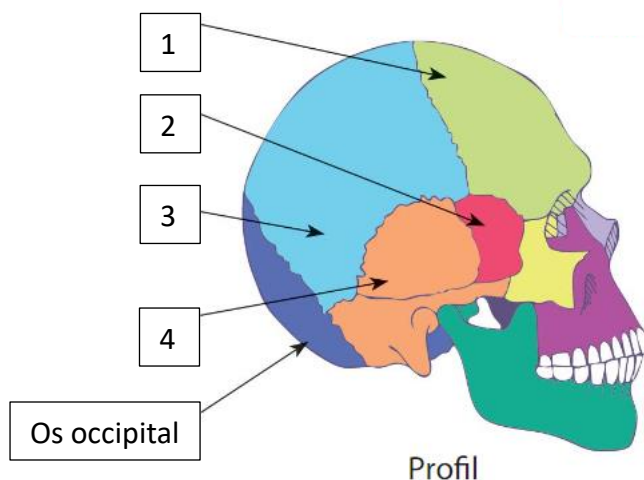
Modèle initial	Visuel choisi par Steeve
	
Source : https://dqxy.link/joT7i Consulté le 04.10.24 à 18h27	Source : https://dqxy.link/0l5Qy Consulté le 04.10.24 à 16h42

BACCALAURÉAT PROFESSIONNEL MÉTIER DE LA COIFFURE		Sous-épreuve E31 Techniques de coiffure Partie C Analyse d'une situation professionnelle Coef : 3 Durée : 2 heures	
Repère : 25-BCP-MDC-U31C-PO1	Session 2025	SUJET	Page 3/15

À partir de vos compétences et des **document 1, 2, 3 et 4**, vous réalisez les activités ci-dessous :

Afin de réaliser le service de coupe attendu, vous devez prendre en compte les zones du crâne, les caractéristiques du cuir chevelu et des cheveux de votre client, ainsi que ses attentes.

1.1 Nommer les zones du crâne en reportant les numéros sur votre copie.



Source : Delagrave la coupe et la forme temporaire- Pôle 1 Tome 2- 1^{ère}, Tle Bac Pro Métiers de la coiffure 2022.
Auteurs : Philippe Campart, Cathy Guenot Marty

1.2 Annoter le schéma du cuir chevelu.

(Compléter l'annexe 1 à rendre avec la copie).

1.3 Caractériser le type de coupe souhaité par Steeve. Énumérer trois outils de coupe possibles pour sa réalisation et indiquer leur utilisation.

1.4 Énumérer et décrire les étapes de la coupe à partir du visuel choisi. Présenter les réponses sous forme de tableau.

1.5 Nommer les différentes techniques mises en œuvre.

(Compléter l'annexe 2 à rendre avec la copie).

Ces outils nécessitent diverses opérations d'entretien et de maintenance.

1.6 Identifier et justifier deux opérations d'entretien et deux opérations de maintenance de la tondeuse.

1.7 Justifier la nécessité de nettoyer et de désinfecter l'ensemble des outils de coupe.

1.8 Préciser trois conséquences possibles d'une coupure.

BACCALAURÉAT PROFESSIONNEL MÉTIER DE LA COIFFURE	Sous-épreuve E31 Techniques de coiffure		
	Partie C Analyse d'une situation professionnelle		
	Coef : 3	Durée : 2 heures	
Repère : 25-BCP-MDC-U31C-PO1	Session 2025	SUJET	Page 4/15

Laure, votre formatrice spécialisée en effets couleur, vous accompagne dans le diagnostic de Steeve, avant de réaliser la technique.

1.9 Recenser et sélectionner les informations indispensables à l'élaboration du diagnostic.
(Compléter l'annexe 3 à rendre avec la copie).

Sur le nuancier des pastels WELLA, vous constatez différentes nuances.

1.10 Nommer les différentes nuances de la palette WELLA, à partir du tableau de l'échelle des reflets.

1.11 Sélectionner une nuance de chez WELLA pour la pastellisation de Steeve et justifier la réponse.

1.12 Indiquer et justifier les différentes étapes du protocole pour l'ensemble des techniques réalisées sur la chevelure de Steeve.
(Compléter l'annexe 4 à rendre avec la copie).

1.13 Indiquer le rôle des principaux composants et leur principe d'action éclaircissant. Pour cela, légender le schéma.
(Compléter l'annexe 5 à rendre avec la copie).

Votre formatrice, Laure, vous demande de maintenir la mise en forme de Steeve à l'aide d'un produit de coiffage.

1.14 Catégoriser le produit utilisé et le nommer.

1.15 Indiquer la forme galénique de ce produit.



1.16 Indiquer le principe d'action de cette catégorie de produits.

1.17 Justifier les critères de choix suivants « niveau de fixation - utilisation – propriétés complémentaires » pour un client désireux d'utiliser un spray/laque.

BACCALAURÉAT PROFESSIONNEL MÉTIRS DE LA COIFFURE		Sous-épreuve E31 Techniques de coiffure Partie C Analyse d'une situation professionnelle Coef : 3 Durée : 2 heures	
Repère : 25-BCP-MDC-U31C-PO1		Session 2025	Page 5/15

Situation 2 : concevoir et réaliser une mise en forme et un coiffage personnalisé. 18,5 points

Lors de la formation « mise en forme durable » au salon d'essai WELLA, Sophie la formatrice vous demande de prendre en charge Johanna, l'amie de Steeve, qui trouve ses cheveux fins, mous et raides. Elle souhaiterait le même rendu que le modèle représenté sur une brochure professionnelle. Son cuir chevelu est sain, sans anomalie, ses cheveux sont légèrement sensibilisés par l'oxydation naturelle, d'une longueur de 22 cm.

Modèle initial	Réalisation finale
	
Source : https://dgxy.link/quGkR le 23/10/24 à 15h00	Source : https://dgxy.link/eElcQ Consulté le 23/10/24 à 14h59

À partir de vos compétences et du **document 5**, vous répondez aux questions ci-dessous.

Sophie vous rappelle que les produits utilisés lors du service forme ont une répercussion sur la physiologie et la constitution des cheveux.

- 2.1 Citer et caractériser les différentes formes de kératine qui entrent dans la composition chimique du cheveu.
- 2.2 Légender le schéma de la structure et de l'ultrastructure du cheveu.
(Compléter l'annexe 6 à rendre avec la copie).

Après avoir identifié les caractéristiques des cheveux de Johanna, vous optez pour le choix d'une méthode d'imprégnation du produit réducteur et d'une technique d'enroulage.

- 2.3 Citer et différencier les deux méthodes d'imprégnation du produit réducteur.
Présenter vos réponses sous forme de tableau.
- 2.4 Nommer les différents montages de permanente puis sélectionner le plus adapté pour la chevelure de Johanna. Justifier la réponse.
(Compléter l'annexe 7 à rendre avec la copie).

À la fin de votre prestation, vous devez remettre votre poste de travail en état, entretenir les matériels et le linge.

- 2.5 Justifier la nécessité des opérations d'entretien du linge, des équipements et des espaces de travail.
(Deux réponses attendues).
- 2.6 Énoncer les étapes de l'entretien du linge, les produits et les matériels utilisés.
Présenter votre réponse sous forme de tableau.

BACCALAURÉAT PROFESSIONNEL MÉTIRS DE LA COIFFURE	Sous-épreuve E31 Techniques de coiffure Partie C Analyse d'une situation professionnelle Coef : 3 Durée : 2 heures		
Repère : 25-BCP-MDC-U31C-PO1	Session 2025	SUJET	Page 7/15

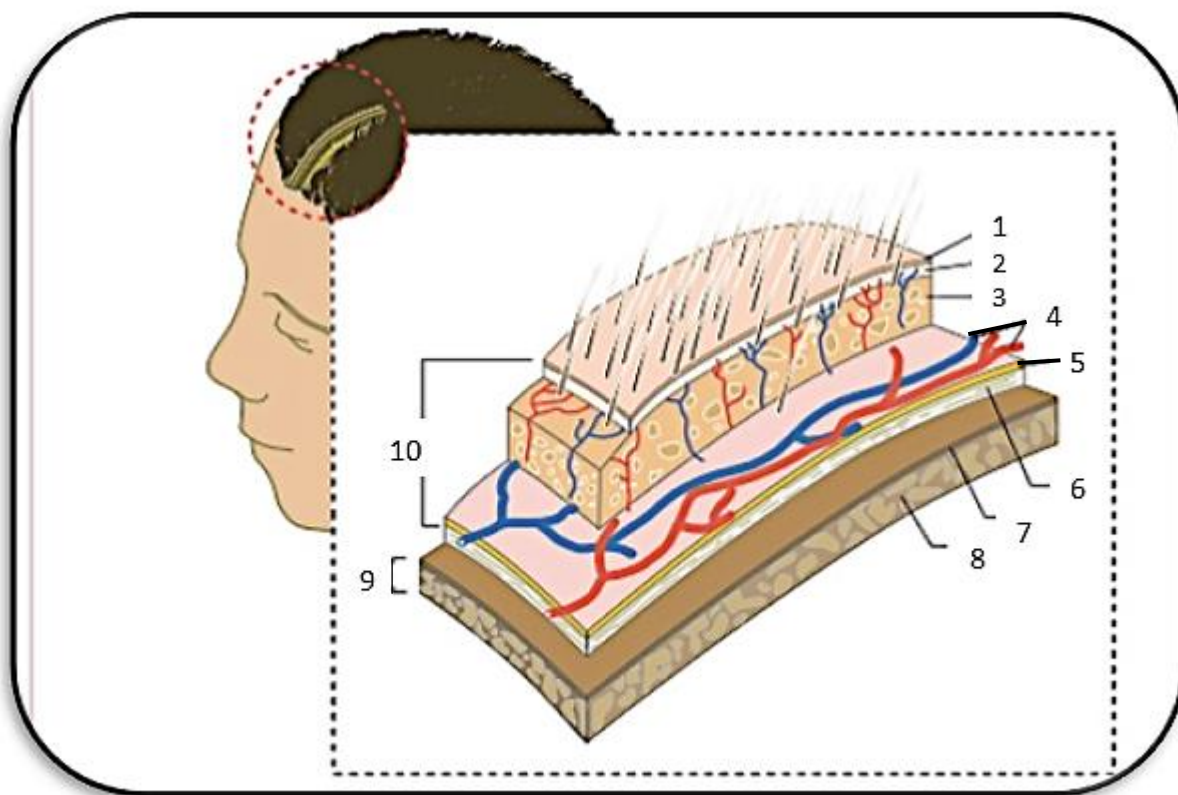
ANNEXES À COMPLÉTER

ET

À RENDRE AVEC LA COPIE

BACCALAURÉAT PROFESSIONNEL MÉTIRS DE LA COIFFURE	Sous-épreuve E31 Techniques de coiffure Partie C Analyse d'une situation professionnelle Coef : 3 Durée : 2 heures		
Repère : 25-BCP-MDC-U31C-PO1	Session 2025	SUJET	Page 8/15

Schéma du cuir chevelu



Source : <https://dgxy.link/oTeJl>
Consulté le 04.10.24 à 16h28

Le schéma du cuir chevelu

1		6	
2		7	
3		8	
4		9	
5		10	

N° de candidat :

ANNEXE 2

À rendre avec la copie


Techniques de coupe



Source : <https://dgxy.link/LFiw3>
29/11/2024 à 10h42



Source : <https://dgxy.link/gYW3B>
29/11/2024 à 10h56



Source : <https://dgxy.link/220yP>
29/11/2024 à 11h01



Source : <https://dgxy.link/PT2xk>
29/11/2024 à 11h17

BACCALAURÉAT PROFESSIONNEL
MÉTIER DE LA COIFFURE

Sous-épreuve E31 Techniques de coiffure
Partie C Analyse d'une situation professionnelle
Coef : 3 Durée : 2 heures

Repère : 25-BCP-MDC-U31C-PO1

Session 2025

SUJET

Page 10/15

N° de candidat :

À rendre avec la copie

ANNEXE 3

Fiche diagnostic

Nom du client :

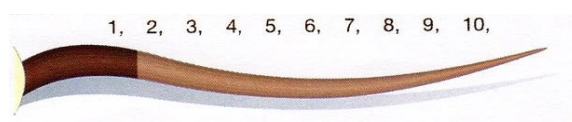
Nom du technicien : candidat

Date : du jour


Cocher les éléments correspondants au diagnostic cheveu et cuir chevelu :

État du cuir chevelu	Nature des cheveux	Structure / état des cheveux	% Cheveux blancs
<input type="checkbox"/> Sain	<input type="checkbox"/> Naturel	<input type="checkbox"/> Fins
<input type="checkbox"/> Gras	<input type="checkbox"/> Permanenté	<input type="checkbox"/> Normaux	
<input type="checkbox"/> Sec	<input type="checkbox"/> Coloré	<input type="checkbox"/> Gros	
<input type="checkbox"/> Pelliculeux	<input type="checkbox"/> Décoloré	<input type="checkbox"/> Sains	
<input type="checkbox"/> Irrité		<input type="checkbox"/> Sensibilisés	
		<input type="checkbox"/> Très sensibilisés	

Entourer la hauteur de ton des repousses :



Entourer la hauteur de ton de départ des longueurs et pointes :



Cocher les éléments correspondants au désir du client :

Hauteur de ton de départ	Hauteur de ton désirée	Reflet désiré	Fond d'éclaircissement nécessaire
<input type="checkbox"/> 1 Noir	<input type="checkbox"/> 1 Noir	<input type="checkbox"/> 1 Cendré	<input type="checkbox"/> Rouge foncé
<input type="checkbox"/> 2 Brun	<input type="checkbox"/> 2 Brun	<input type="checkbox"/> 2 Irisé	<input type="checkbox"/> Rouge foncé
<input type="checkbox"/> 3 Châtain foncé	<input type="checkbox"/> 3 Châtain foncé	<input type="checkbox"/> 3 Doré	<input type="checkbox"/> Rouge foncé
<input type="checkbox"/> 4 Châtain	<input type="checkbox"/> 4 Châtain	<input type="checkbox"/> 4 Cuivré	<input type="checkbox"/> Rouge
<input type="checkbox"/> 5 Châtain clair	<input type="checkbox"/> 5 Châtain clair	<input type="checkbox"/> 5 Acajou	<input type="checkbox"/> Rouge orangé
<input type="checkbox"/> 6 Blond foncé	<input type="checkbox"/> 6 Blond foncé	<input type="checkbox"/> 6 Rouge	<input type="checkbox"/> Orangé
<input type="checkbox"/> 7 Blond	<input type="checkbox"/> 7 Blond	<input type="checkbox"/> Autres	<input type="checkbox"/> Jaune orangé
<input type="checkbox"/> 8 Blond clair	<input type="checkbox"/> 8 Blond clair		<input type="checkbox"/> Jaune
<input type="checkbox"/> 9 Blond très clair	<input type="checkbox"/> 9 Blond très clair		<input type="checkbox"/> Jaune clair
<input type="checkbox"/> 10 Blond très très clair	<input type="checkbox"/> 10 Blond très très clair		<input type="checkbox"/> Jaune très clair

Cocher les éléments correspondants pour le choix des techniques :

Repousses	Nombre de tons d'écart avec nuance désirée :	Choix de la technique : <input type="checkbox"/> Coloration <input type="checkbox"/> Décoloration <input type="checkbox"/> Nettoyage <input type="checkbox"/> Démaquillage
Longueurs Pointes	Nombre de tons d'écart avec nuance désirée :	Choix de la technique : <input type="checkbox"/> Coloration <input type="checkbox"/> Décoloration <input type="checkbox"/> Nettoyage <input type="checkbox"/> Démaquillage
Patine Pastellisation	Tonalité sélectionnée : <input type="checkbox"/> Chaud <input type="checkbox"/> Froid	

Document de l'auteur

BACCALAURÉAT PROFESSIONNEL MÉTIER DE LA COIFFURE	Sous-épreuve E31 Techniques de coiffure Partie C Analyse d'une situation professionnelle Coef : 3 Durée : 2 heures
Repère : 25-BCP-MDC-U31C-PO1	Session 2025 SUJET Page 11/15

N° de candidat :

ANNEXE 4

À rendre avec la copie

Étapes techniques

Étapes	Descriptions et/ou justifications
Temps de pause	
Rinçage	Pour éliminer totalement le produit.
Émulsion et rinçage	Pour éliminer totalement le produit.

BACCALAURÉAT PROFESSIONNEL
MÉTIRS DE LA COIFFURE

Sous-épreuve E31 Techniques de coiffure
Partie C Analyse d'une situation professionnelle
Coef : 3 Durée : 2 heures

Repère : 25-BCP-MDC-U31C-PO1

Session 2025

SUJET

Page 12/15

N° de candidat :

À rendre avec la copie

ANNEXE 5

Principe d'action d'un mélange éclaircissant

Principes actifs

+

Principe actif

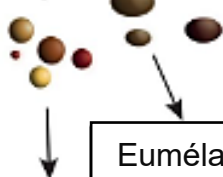


+



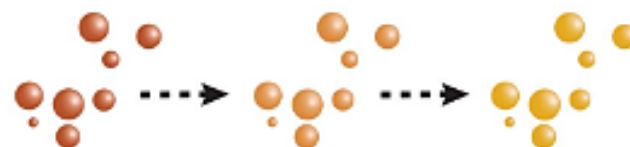
=

Résultat de la réaction du mélange décolorant



Eumélanosomes

Application du
mélange
décolorant



Temps

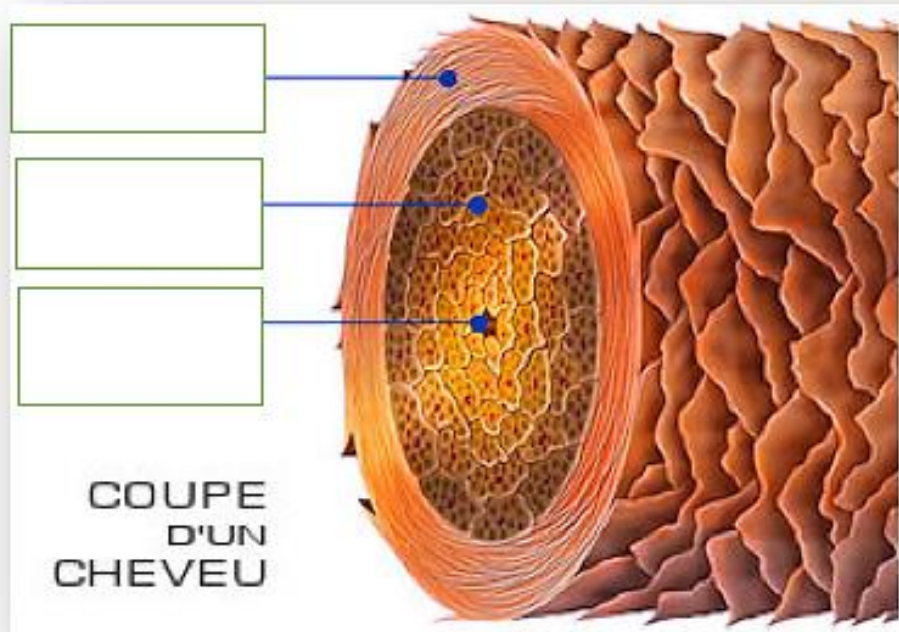
- -----
- -----
- -----

- -----
- -----

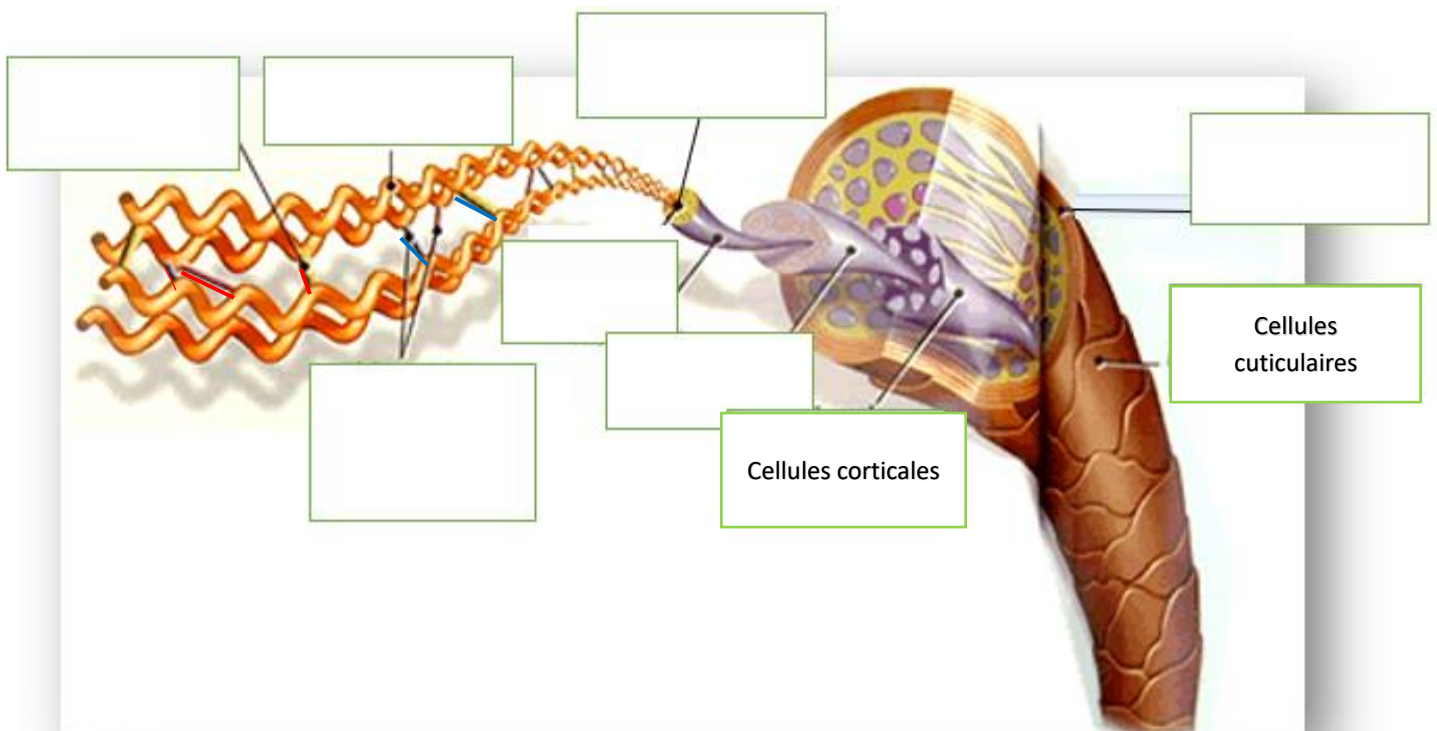
Source : d'après ouvrage Delagrave. La coloration et la forme durable-pôle 1 tome 1
1^{ère} Tle Bac Pro métier de la coiffure 2021
Auteurs : Philippe Campart, Cathy Guenot Marty

ANNEXE 6

Structure et ultrastructure du cheveu



Source : <https://dqxy.link/ipIM2>
Consulté le 23/10/24 à 17h10



Source : <https://dqxy.link/kpjsx>
Consulté le 23/10/24 à 17h10

<p>BACCALAURÉAT PROFESSIONNEL MÉTIER DE LA COIFFURE</p>	<p>Sous-épreuve E31 Techniques de coiffure Partie C Analyse d'une situation professionnelle Coef : 3 Durée : 2 heures</p>		
<p>Repère : 25-BCP-MDC-U31C-PO1</p>	<p>Session 2025</p>	<p>SUJET</p>	<p>Page 14/15</p>






N° de candidat :

ANNEXE 7

À rendre avec la copie

Les différents montages



Montage n°1	Montage n°2	Montage n°3	Montage n°4
 <p>Source : https://dgxy.link/PUso0 Consulté le 24/10/24 à 15h11</p>	 <p>Source : https://dgxy.link/clVZC Consulté le 24/10/24 à 15h11</p>	 <p>Source : https://dgxy.link/XoeiV Consulté le 24/10/24 à 15h22</p>	 <p>Source : https://dgxy.link/lbpZS Consulté le 24/10/24 à 15h42</p>
Damier	-----	-----	-----
Montage n°5		Choix du montage : N°	
 <p>Source : https://dgxy.link/xoeiv Consulté le 24/10/24 à 16h00</p>		Justification :	
-----		
		
		
		
		
		
		

Document de l'auteur